

105年公務人員特種考試外交領事人員及外交行政人員、 民航人員、國際經濟商務人員及原住民族考試試題

考試別：原住民族特考

等別：四等考試

類科組：經建行政

科目：經濟學概要

考試時間：1 小時

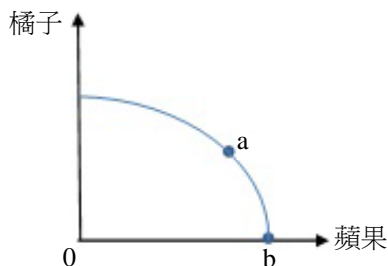
座號：_____

※注意：(一)本試題為單一選擇題，請選出一個正確或最適當的答案，複選作答者，該題不予計分。

(二)本科目共 50 題，每題 2 分，須用 2B 鉛筆 在試卡上依題號清楚劃記，於本試題上作答者，不予計分。

(三)禁止使用電子計算器。

- 假設縱軸為工資率，橫軸為勞動數量。如果勞動市場是完全競爭，則個別廠商面對的勞動供給線是：
(A)水平線 (B)垂直線 (C)正斜率 (D)負斜率
- 在其他條件不變之下，若一國的部分失業人口因長久找不到工作而放棄繼續找工作，那麼此國的失業率會如何變化？
(A)上升 (B)下降 (C)不變 (D)不一定
- 「負面外部性」(negative externality) 意指：
(A)一人之消費量高於他人之消費量 (B)一人之消費量低於他人之消費量
(C)一人之消費量與他人之消費量成正相關 (D)一人之行為會造成他人之傷害
- 對季芬財的發生，下列敘述何者錯誤？
(A)當物品價格上升，對該物的需求量反而增加 (B)發生在所得非常低的情況
(C)是一種劣等財 (D)是因為物價上升的所得效果小於替代效果
- 所謂「邊際報酬遞減法則」指的是隨著生產要素雇用增加：
(A)長期平均成本隨產量增加而遞減 (B)利潤隨產量增加而遞減
(C)短期邊際產量終究會遞減 (D)廠商必在總產量遞減階段下生產
- 有關下列成本的敘述何者正確？
(A)機會成本 < 隱藏成本 (B)會計成本 = 機會成本 + 隱藏成本
(C)經濟成本 = 外顯成本 + 隱藏成本 (D)會計成本 > 機會成本
- 當競爭市場達到均衡時，此時最可能的情形是：
(A)沒有消費者剩餘 (B)沒有生產者剩餘
(C)沒有社會總剩餘 (D)沒有絕對損失 (dead-weight loss)
- 蜜蜂飼養的社會最適數量是 100，完全競爭市場決定的數量是 80。若此時有經濟效率之損失 10，則下列敘述何者正確？
(A)蜜蜂數量由 80 增加到 100，養蜂者將增加利潤 10
(B)蜜蜂數量由 100 減少到 80，養蜂者將增加利潤 10
(C)蜜蜂數量由 80 增加到 100，社會福利將增加 10
(D)蜜蜂數量由 100 減少到 80，社會福利將增加 10
- 貿易條件 (terms of trade) 的定義為：
(A)出口品成本除以進口品成本 (B)能換得的進口品數量除以出口品數量
(C)兩國關稅之比率 (D)出口國匯率除以進口國匯率
- 假設下圖為某農民生產蘋果與橘子之生產可能線。圖中 a 點與 b 點均位於生產可能線上，下列對於 a 點與 b 點的敘述，何者正確？

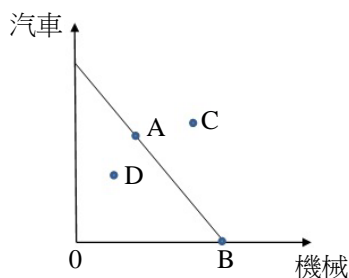


- (A) a 點之生產組合同時有蘋果與橘子的生產，但 b 點僅生產蘋果，因此 a 點一定比 b 點好
- (B) a 點之生產組合同時有蘋果與橘子的生產，但 b 點僅生產蘋果，原因可能是 b 點未達技術效率
- (C) a 點與 b 點均為資源與技術充分利用之生產組合點
- (D) 生產蘋果的機會成本，在 a 點與在 b 點相同

- 11 下列有關「進口關稅」與「進口配額」之敘述，何者錯誤？
 (A)兩者都可以達到扶持國內特定產業的目的
 (B)兩者都可以使得國內業者的供給量上升
 (C)進口關稅屬於從價管制，進口配額屬於從量管制
 (D)進口關稅會使得進口品價格上升，但進口配額不會對進口品價格產生任何影響
- 12 假設一個木匠工作一個月，可生產的木桌及木椅的最大可能組合如下表，則關於此木匠之生產可能線，下列敘述何者正確？

木桌	0	25	50	75	100
木椅	60	45	30	15	0

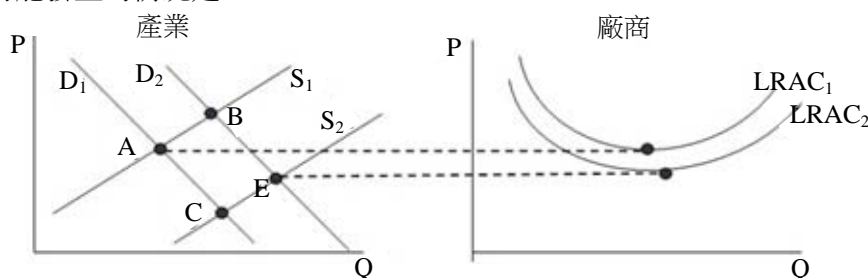
- (A)負斜率的直線
 (B)正斜率的直線
 (C)負斜率且向外凸出的曲線
 (D)正斜率且向外凸出的曲線
- 13 假設某國家生產機械與汽車，生產可能線如下圖所示。該國未開放國際貿易前之生產點為 A 點，開放貿易後，根據比較利益法則專業化生產機械，生產點變為 B 點，且與他國貿易而得利。該國開放貿易前與開放貿易後的消費點為何？



- (A)開放貿易前消費點為 A 點，開放貿易後消費點為 B 點
 (B)開放貿易前消費點為 A 點，開放貿易後消費點為 C 點
 (C)開放貿易前消費點為 D 點，開放貿易後消費點為 B 點
 (D)開放貿易前消費點為 D 點，開放貿易後消費點為 C 點
- 14 假設有一位肉品工廠領班，需負責分配 4 位工人的工作項目。下表為 4 位工人生產每包香腸及火腿所需的工時（小時）。若該領班要指派 2 人生產香腸，2 人生產火腿。根據比較利益法則，那兩位工人應負責生產香腸？

工人	香腸	火腿
甲	2	1
乙	2	3
丙	4	1
丁	4	5

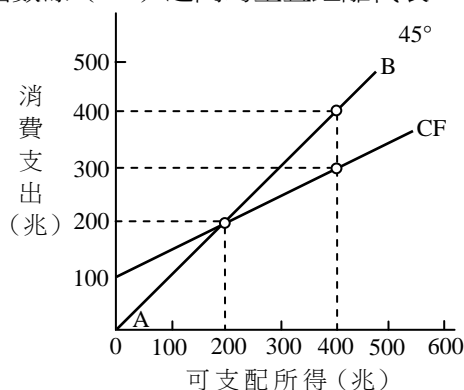
- (A)甲與乙
 (B)甲與丙
 (C)乙與丁
 (D)丙與丁
- 15 老張酒館是一個追求利潤最大的獨占廠商，且消費者對它的需求曲線為 $p=11-2q$ ，其中 p 及 q 分別為價格及產量。老張酒館的總成本函數為 $TC(q)=16+2q$ 。若政府對此廠商所出售的每瓶酒課徵 1 元的從量稅。在此廠商的價格及數量下所對應的消費者剩餘為：
- (A)9
 (B)8
 (C)5
 (D)4
- 16 假設供需法則成立，在其他條件不變下，政府決定對購買高濃度酒品的消費者課徵從量稅，則所有生產高濃度酒品的生產者剩餘會：
- (A)減少
 (B)不變
 (C)增加
 (D)因資訊不足無法判斷
- 17 下圖顯示某長期成本遞減產業之狀況，原先產業之需求與供給分別是 D_1 與 S_1 。如果市場需求增加為 D_2 ，則此產業長期最可能發生的情況是：



- (A)停留在 A 點
 (B)移動到 B 點
 (C)移動到 C 點
 (D)移動到 E 點

- 18 關於總變動成本，下列敘述何者錯誤？
 (A)總變動成本在長期等於總成本 (B)總變動成本曲線通過原點
 (C)總變動成本等於總成本減去總固定成本 (D)總變動成本曲線之斜率為負值
- 19 當某甲的所得增加為原先兩倍時，其對某品牌衣服的需求量卻增加為原先的三倍。在其他條件不變時，對某甲而言，該品牌衣服是：
 (A)正常財 (B)劣等財 (C)季芬財 (D)必需品
- 20 中央銀行欲實施寬鬆的貨幣政策時，可以採取下列何種方式？
 (A)提高法定準備率 (B)在債券市場賣出債券 (C)降低重貼現率 (D)在外匯市場賣出外匯
- 21 就追求利潤極大的競爭廠商而言，只要 ① 超過 ②，廠商會寧願忍受虧損也不停工。前述文字①②應分別填入：
 (A)價格，平均變動成本 (B)價格，平均固定成本 (C)總收入，總固定成本 (D)總收入，總成本
- 22 具有非敵對 (non-rival) 與非排他 (non-excludable) 特性之公共財，如果交由市場自由決定其產量，結果會是：
 (A)生產數量太少，因為生產者會要求太高的價格 (B)生產數量太少，因為消費者願付價格太低
 (C)生產數量太多，因為生產者願意接受較低價格 (D)生產數量太多，因為消費者願付價格太高
- 23 在其他條件不變下，張小姐在考慮其對洗面乳的需求或需求量時，下列何項最不可能為其考慮因素？
 (A)張小姐所得 (B)國外同學李小姐的所得 (C)香皂價格 (D)洗面乳價格
- 24 令橫軸為數量，縱軸為價格。若某一財貨的需求曲線恰與橫軸重合，則該財貨為：
 (A)正常財 (B)劣等財 (C)季芬財 (D)自由財
- 25 假設縱軸為價格，橫軸為數量，且有數條不同的直線型需求曲線，皆符合需求法則，這些需求曲線並不平行，且皆相交於同一點，則對該相交點的彈性而言：
 (A)經過此相交點的需求曲線之斜率絕對值愈小，其需求價格彈性絕對值愈小
 (B)經過此相交點的需求曲線之斜率絕對值愈大，其需求價格彈性絕對值愈大
 (C)經過此相交點的需求曲線之斜率絕對值愈小，其需求價格彈性絕對值愈大
 (D)經過此相交點的需求曲線之斜率絕對值雖然不同，其需求價格彈性絕對值皆相同
- 26 假設某礦泉水公司面對的市場需求函數為 $Q=50-2P$ ， Q 為數量， P 為價格，而目前該公司礦泉水售價為每瓶 10 元。若該公司決定以追求最大收益 (maximal revenue) 為目標，則該公司礦泉水售價應為：
 (A)維持每瓶 10 元 (B)每瓶降價 2.5 元 (C)每瓶漲價 2.5 元 (D)每瓶漲價 1 元
- 27 所謂「洛倫士曲線」(Lorenz Curve) 是用來衡量：
 (A)所得分配的不均度 (B)通貨膨脹與失業率之間的關係
 (C)失業率與所得之間的關係 (D)所得稅負擔的不均度
- 28 某甲運動員在 1970 年的年薪為 300 萬美元，而乙運動員在 2000 年的年薪為 600 萬美元。我們知道 1970 年的消費者物價指數 $CPI=30$ ，而 2000 年的 $CPI=100$ ，下列敘述何者正確？
 (A)乙的實質薪資比甲低 (B)乙的名目薪資比甲低
 (C)1970 年的生活成本比 2000 年來得高 (D)2000 年美元的購買力比 1970 年來得高
- 29 下列那一項為景氣復甦的領先指標？
 (A)廠商資本設備投資減少 (B)廠商資本設備使用率提高
 (C)政府失業救濟金支出上升 (D)非耐久財消費大幅上升
- 30 政府欲對雇主補貼每位勞工每個月 2,000 元的薪資所得，在何種情況下，勞工可以完全得到此一政策的好處？
 (A)勞動市場供給彈性無窮大 (B)勞動市場需求彈性無窮大
 (C)勞動市場需求彈性等於 1 (D)勞動市場供給彈性等於 1
- 31 其他條件不變之下，若一國之基尼係數 (Gini coefficient) 上升，則表示該國之所得分配不均度變化為何？
 (A)上升 (B)下降 (C)不變 (D)不一定
- 32 某一經濟體系，其自發性消費支出為 50 單位，邊際消費傾向為 0.6，投資為 200 單位，政府支出為 250 單位，課稅為 250 單位，出口為 300 單位，進口為 250 單位。根據這些資料，該國的均衡所得為：
 (A)1,200 (B)1,000 (C)750 (D)550
- 33 假設其他條件不變。當政府的移轉性支出 (transfer payment) 大幅增加時，下列何者的增幅會最大？
 (A)政府消費支出 (B)政府投資支出 (C)民間消費支出 (D)政府稅收
- 34 當獨占廠商總收益最大時，下列何者正確？
 (A)邊際收益大於零 (B)邊際收益等於零 (C)邊際收益小於零 (D)價格為零
- 35 在下列何種情況下，目前的國債最可能加重未來國民的總負擔？
 (A)國債的發行利率上升 (B)國債的發行利率下降 (C)當前稅率上升 (D)當前稅率下降

- 36 下列何種情況，最符合擴張性貨幣政策的施行？
 (A)央行施行公開市場買入，銀行實際準備金增加 (B)央行施行公開市場買入，銀行實際準備金減少
 (C)央行施行公開市場賣出，銀行實際準備金減少 (D)央行施行公開市場賣出，銀行實際準備金增加
- 37 在下圖中，45度線與消費函數線 (CF) 之間的垂直距離代表：



- (A)投資水準 (B)總消費支出 (C)消費支出與投資之差距 (D)儲蓄或負儲蓄
- 38 某經濟體系，當可支配所得為 1,200 億元時，其總消費為 600 億元；當可支配所得為 1,600 億元時，其總消費為 800 億元。在簡單凱因斯模型中，該經濟體系的邊際消費傾向等於多少？
 (A)0.25 (B)0.4 (C)0.5 (D)0.75
- 39 節儉的矛盾是指下列那一項變動，使得總儲蓄下降？
 (A)自發性儲蓄減少 (B)誘發性儲蓄增加 (C)自發性消費減少 (D)誘發性消費減少
- 40 某一封閉經濟體系，其名目工資具向下僵固性，但不具向上僵固性，且目前的均衡所得水準小於充分就業時的所得水準。其他條件不變之下，若該經濟體系的政府支出上升，則根據凱因斯的總合供給與需求模型，均衡時該經濟體系所得與物價水準會有什麼變化？
 (A)所得與物價水準皆不變 (B)所得與物價水準皆上升
 (C)所得水準不變，但物價水準上升 (D)所得水準上升，但物價水準不變
- 41 下列為某一封閉經濟體系的資料： $Y=C+I+G$ ； $C=200+0.8(Y-T)$ ； $I=150+0.2(Y-T)$ ； $G=150$ ； $T=T_0+0.2Y$ 。當政府降低 T_0 1 單位，均衡所得增加多少單位？
 (A)2 (B)3 (C)4 (D)5
- 42 日本首相安倍晉三上任後主打「安倍經濟學」，祭出了「三支箭」，誓言要讓日本揮別長期通貨緊縮的困境。安倍的所謂三支箭，不包含下列那一項？
 (A)寬鬆貨幣政策 (B)減稅刺激民間消費
 (C)促進民間投資的成長戰略 (D)擴大財政支出
- 43 假設其他條件不變，下列那一項敘述代表短期總合供給曲線必定是正斜率？
 (A)當實質工資高於勞動市場均衡時的水準時，名目工資保持不變
 (B)當實質工資高於勞動市場均衡時的水準時，名目工資會向上調整
 (C)當實質工資低於勞動市場均衡時的水準時，名目工資保持不變
 (D)當實質工資低於勞動市場均衡時的水準時，名目工資會向上調整
- 44 自民國 81 年以來，我國中央銀行擬定貨幣政策之中間目標為：
 (A)穩定匯率 (B)促進經濟成長 (C)M2 成長率 (D)穩定物價
- 45 當物價膨脹發生，為避免實質購買力下降而努力縮短持有鈔票的時間，此行為所引發的成本為：
 (A)資訊成本 (information cost) (B)皮鞋成本 (shoe leather cost)
 (C)菜單成本 (menu cost) (D)重分配成本 (re-distribution cost)
- 46 當一經濟體系處於「流動性陷阱」(liquidity trap)時：
 (A)利率極低，擴張性的財政政策難以發揮效果 (B)利率極高，擴張性的財政政策難以發揮效果
 (C)利率極低，擴張性的貨幣政策難以發揮效果 (D)利率極高，擴張性的貨幣政策難以發揮效果
- 47 一般而言，相對於繁榮時期，景氣衰退時期的「自動穩定因子」(automatic stabilizers)使政府預算：
 (A)餘額惡化 (B)盈餘提高 (C)漸趨平衡 (D)無特定關係
- 48 當美國聯準會降息時，若其他條件不變，此時美元相對於其他貨幣會：
 (A)升值 (B)貶值 (C)不變 (D)無法確定
- 49 對一個小型開放，資金完全自由移動，且採取浮動匯率的國家而言，貨幣供給增加會使國民所得：
 (A)增加 (B)減少
 (C)不變 (D)其變動方向因資料不足，無法判斷
- 50 下列何者最適合用來衡量生活水準的變化？
 (A)名目 GDP 成長率 (B)實質 GDP 成長率 (C)每人名目 GDP 成長率 (D)每人實質 GDP 成長率

測驗式試題標準答案

考試名稱：105年公務人員特種考試外交領事人員及外交行政人員、民航人員、國際經濟商務人員及原住民族考試

類科名稱：經建行政

科目名稱：經濟學概要（試題代號：3609）

單選題數：50題

單選每題配分：2.00分

複選題數：

複選每題配分：

標準答案：

題號	第1題	第2題	第3題	第4題	第5題	第6題	第7題	第8題	第9題	第10題
答案	A	B	D	D	C	C	D	C	B	C

題號	第11題	第12題	第13題	第14題	第15題	第16題	第17題	第18題	第19題	第20題
答案	D	A	B	C	D	A	D	D	A	C

題號	第21題	第22題	第23題	第24題	第25題	第26題	第27題	第28題	第29題	第30題
答案	A	B	B	D	C	C	A	A	B	B

題號	第31題	第32題	第33題	第34題	第35題	第36題	第37題	第38題	第39題	第40題
答案	A	B	C	B	A	A	D	C	C	B

題號	第41題	第42題	第43題	第44題	第45題	第46題	第47題	第48題	第49題	第50題
答案	D	B	A	C	B	C	A	B	A	D

題號	第51題	第52題	第53題	第54題	第55題	第56題	第57題	第58題	第59題	第60題
答案										

題號	第61題	第62題	第63題	第64題	第65題	第66題	第67題	第68題	第69題	第70題
答案										

題號	第71題	第72題	第73題	第74題	第75題	第76題	第77題	第78題	第79題	第80題
答案										

題號	第81題	第82題	第83題	第84題	第85題	第86題	第87題	第88題	第89題	第90題
答案										

題號	第91題	第92題	第93題	第94題	第95題	第96題	第97題	第98題	第99題	第100題
答案										

備註：